

ATIVIDADES ROTINA 06 DE JULHO À 08 DE JULHO (2º ANOS)

SEGUNDA-FEIRA (06/07/20)

MATEMÁTICA – Sequência 5: Meses do ano e contagens – ATIVIDADE 5.1 - página 30


Responda os exercícios 1, 2, 3, 4 e 5.

SEQUÊNCIA 5 MESES DO ANO E CONTAGENS




ATIVIDADE 5.1

1. CONTE OS GATINHOS DA ILUSTRAÇÃO E REGISTRE QUANTOS SÃO: 50



2. CONTE OS RATINHOS DA ILUSTRAÇÃO E REGISTRE QUANTOS SÃO: 60



3. O QUE HÁ MAIS: GATINHOS OU RATINHOS? RATINHOS

4. QUANTOS A MAIS? 10


5. QUANTOS SÃO OS GATINHOS E RATINHOS JUNTOS? 110

$$\begin{array}{r} \text{DU} \\ 50 \\ + 60 \\ \hline 110 \end{array}$$

Responda o exercício 1, questões a, b, c, d.

ATIVIDADE 5.2

1 TIAGO TEM DUAS COLEÇÕES DE PEÇAS PARA A MONTAGEM DE FIGURAS. QUANTAS PEÇAS HÁ EM CADA COLEÇÃO?

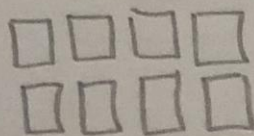


55

47

- A. O QUE HÁ MAIS: PEÇAS VERMELHAS OU AZUIS? VERMELHAS
- B. QUANTAS A MAIS? 8
- C. SE TIAGO JUNTAR OS TRIÂNGULOS COM OS QUADRADOS, QUAL O TOTAL DE PEÇAS QUE ELE TERÁ? 102
- D. DESENHE O NÚMERO DE PEÇAS QUE FALTAM PARA QUE TIAGO TENHA A MESMA QUANTIDADE DE PEÇAS DOS DOIS TIPOS.

$$\begin{array}{r}
 \text{DU} \\
 \overset{1}{55} \\
 + 47 \\
 \hline
 102
 \end{array}$$



Agora que você já sabe a parlenda “Lá em cima do piano”, organize a parlenda de forma correta, **escrevendo no seu caderno de casa.**

LÁ EM CIMA DO PIANO

LÁ EM CIMA DO PIANO
TINHA UM COPO DE VENENO
QUEM BEBEU MORREU
O CULPADO NÃO FOI EU

TERÇA-FEIRA (07/07/20)

Escreva a parlenda “Corre Cutia” na página 139.

CORRE – CUTIA

**CORRE CUTIA
NA CASA DA TIA.
CORRE CIPÓ
NA CASA DA AVÓ.
LENCINHO NA MÃO
CAIU NO CHÃO.
MOÇO BONITO
DO MEU CORAÇÃO.**



Continue a sequência do exercício 1, de 1 em 1.

Exercícios 2 e 3, complete de 2 em 2.

ATIVIDADE 5.3

1. NA SUA SALA DE AULA FOI FEITA OUTRA RODA DE CONTAGEM. CONTANDO DE 1 EM 1, A PARTIR DO NÚMERO 39, REGISTRE OS SETE PRÓXIMOS NÚMEROS.


39	40	41	42	43	44	45	46
----	----	----	----	----	----	----	----

2. CONTANDO DE 2 EM 2, A PARTIR DO NÚMERO 48, REGISTRE OS PRÓXIMOS NÚMEROS QUE FORAM DITOS NA RODA.

48	50	52	54	56	58	60	62
----	----	----	----	----	----	----	----

3. CONTANDO DE 2 EM 2, A PARTIR DO NÚMERO 17, REGISTRE OS PRÓXIMOS SETE NÚMEROS FALADOS NA RODA.

17	19	21	23	25	27	29	31
----	----	----	----	----	----	----	----



Exercício 1 - Leia os números e descubra os próximos de acordo com a sequência.

Exercício 2 – continue as sequências a, b, c, d, seguindo os padrões de cada linha.

ATIVIDADE 5.4

1 LUCAS ESCREVEU NÚMEROS EM CARTELAS E PERGUNTOU SE SOFIA SABIA FAZER A LEITURA DELES.

25	30	35	40	45
----	----	----	----	----

EM SEGUIDA, PERGUNTOU QUAIS PODERIAM SER OS DOIS PRÓXIMOS NÚMEROS QUE ELE HAVIA ESCRITO NAS CARTELAS QUE ESTAVAM VIRADAS PARA BAIXO. QUAIS NÚMEROS VOCÊ RESPONDERIA? POR QUÊ?

40 E 45, POIS A SEQUÊNCIA ERA DE 5 EM 5.

2 AGORA FOI A VEZ DE SOFIA ESCREVER NÚMEROS EM CARTELAS E ELA DISSE QUE UTILIZOU UM PADRÃO PARA REALIZAR A TAREFA.

VEJA SE VOCÊ IDENTIFICA O PADRÃO QUE SOFIA UTILIZOU E QUAIS DEVEM SER OS NÚMEROS ESCRITOS NAS CARTELAS PINTADAS DE AMARELO. EXPLIQUE PARA UM COLEGA COMO VOCÊ FEZ.

A.

9	7	5	3	1
---	---	---	---	---

B.

12	16	20	24	28
----	----	----	----	----

C.

20	17	14	11	8
----	----	----	----	---

D.

35	37	39	41	43
----	----	----	----	----

QUARTA-FEIRA (08/07/20)

MATEMÁTICA -- Sequência 5: Meses do ano e contagens -- ATIVIDADE 5.5 - página 34

Realize os exercícios 1, 2, 3, 4 e 5 de acordo com os meses do ano.

ATIVIDADE 5.5

1. VOCÊ JÁ OBSERVOU QUE CADA MÊS DO ANO É REPRESENTADO POR UM NÚMERO? ESCREVA AO LADO DE CADA MÊS O NÚMERO CORRESPONDENTE A ELE.

JANEIRO	1	MARÇO	3	DEZEMBRO	12
ABRIL	4	FEVEREIRO	2	JUNHO	6
SETEMBRO	9	MAIO	5	NOVEMBRO	11
JULHO	7	OUTUBRO	10	AGOSTO	8

2. ESCREVA ABAIXO OS MESES QUE TÊM 30 DIAS:

ABRIL	JUNHO	SETEMBRO	NOVEMBRO
-------	-------	----------	----------

3. AGORA, ESCREVA QUAIS MESES TÊM 31 DIAS:

JANEIRO	MARÇO	MAIO	JULHO
AGOSTO	OUTUBRO	DEZEMBRO	

4. ESCREVA O NOME DO MÊS QUE TEM 28 OU 29 DIAS:

FEVEREIRO

5. O PAI DE LUIZA VIAJOU EM UMA SEGUNDA-FEIRA E VOLTOU PARA CASA NA SEXTA-FEIRA DA MESMA SEMANA. QUANTOS DIAS DUROU SUA VIAGEM?

4

Caderno de casa – Copiar

Separe as sílabas das palavras e escreva a quantidade de sílabas, seguindo o modelo abaixo:

BORBOLETA – BOR – BO – LE – TA (4 sílabas)

PASSARINHO – PAS – SA – RI – NHO (4 sílabas)

CAMELO – CA – ME – LO (3 sílabas)

ZEBRA - ZE – BRA (2 sílabas)

BOI – BOI (1 sílaba)

Lição de casa - Leitura

LER E ESCREVER (LIVRO CAPA AZUL – VOLUME 1)

Leia várias vezes a cantiga “Hoje é domingo” da página 138 e, após treinar bastante, envie um vídeo de você lendo para sua professora.

RESPOSTA PESSOAL (ENCAMINHAR VÍDEO PARA A PROFESSORA)